

## 第一至三单元阶段性综合复习

复习时间:80分钟

满分:100分

书写	知识技能						生活应用	得分	附加题
	一	二	三	四	五	六	七		

书写(3分)。我能做到书写端正。

## ✳ 知识技能 (76分)

## 一、我会填。(19分)

- 25的18倍是( ),408是4的( )倍。
- $\square$ 59 $\div$ 6,如果商是三位数, $\square$ 里最小可以填( );如果商是两位数, $\square$ 里最大可以填( )。
- 24 $\times$ 28的积是( )位数,24 $\times$ 58的积是( )位数。
- 要使6 $\square$ 7 $\div$ 3的商中间有1个0, $\square$ 里最大可以填( )。
- 742 $\div$ 7的商是( )位数,742 $\div$ 8的商是( )位数。
- 两个因数的积是96,一个因数扩大到原来的5倍,另一个因数不变,这时它们的积是( )。

## 7.在括号里填上适当的单位。

手掌的面积大约是1( )

橡皮的面积大约是6( )

便利店的面积约是30( )

大树高约15( )

8.  $6\text{ m}^2 = ( )\text{ dm}^2$

$1800\text{ cm}^2 = ( )\text{ dm}^2$

$3\text{ dm}^2 20\text{ cm}^2 = ( )\text{ cm}^2$

$12\text{ dm} = ( )\text{ cm}$

9.最大的两位数乘最大的两位数,积是( )位数。

## 二、我会判断。(10分)

- 长方形的面积比正方形的面积大。( )
- 12 $\times$ 500的积的末尾有3个0。( )
- 457 $\div$ 3的商是三位数。( )
- 一个数除以8,有余数,那么余数最大是7。( )
- 如果 $\star\div\Delta=6$ ,那么 $(\star\times3)\div\Delta=18$ 。( )

三、在 $\bigcirc$ 里填上“>”“<”或“=”。(6分)

$16\times40\bigcirc80\times80$

$400\div8\bigcirc400\div4$

$42\times20\bigcirc24\times40$

$420\div3\bigcirc240\div6$

$13\times70\bigcirc17\times30$

$810\div9\bigcirc180\div2$

## 四、我会算。(共30分)

## 1.口算。(12分)

$560\div8=$

$70\times70=$

$2400\div4=$

$50\times80=$

$31\times30=$

$300\div6=$

$406\div2=$

$44\times20=$

$90\times50=$

$120\div6=$

$12\times30=$

$30\times10=$

## 2.用竖式计算。(18分)

$83\times41=$

$65\times59=$

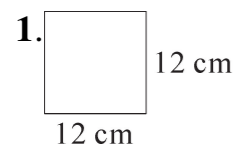
$78\times34=$

$342\div3=$

$804\div5=$

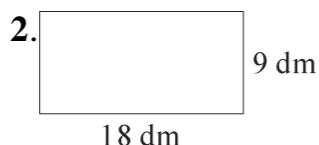
$2040\div6=$

五、计算下列图形的面积和周长。(8分)



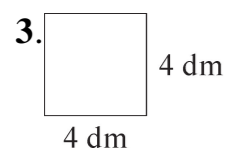
面积:

周长:




面积:

周长:



面积:


周长:



面积:

周长:

六、在下面方格里画出一个面积是  $2\text{ cm}^2$  的长方形和一个面积是  $4\text{ cm}^2$  的正方形。(每个小方格的边长是  $1\text{ cm}$ 。)(3分)



✧ 生活应用 (24分)

七、解决问题。(共24分)

1. 某童装厂第一车间有工人 12 名,如果平均每人每天生产 4 套衣服,那么 4 月一共可以生产多少套衣服?(4分)

2. 某渔民第一次捕鱼 43 kg,第二次捕鱼 52 kg,鱼每千克售价 14 元。这些鱼可卖多少元?(4分)

3. 一只青蛙 8 天能吃害虫 608 只,平均每天能吃害虫多少只?(4分)

4. 小强家第一季度的电费是 219 元,照这样计算,他家一年要缴多少元电费?(4分)

5. 一台压路机,每分行驶 60 m,压路的宽度是 4 m。压路机行驶 9 分,能压多大面积的路面?(4分)

6. 王叔叔带的钱刚好够买两辆自行车,现在他想用带的钱全部买文具盒,可以买多少个?(4分)



附加题 (10分)

丽丽在做两位数乘两位数的运算时,错把其中一个因数 81 写成了 87,所得结果比正确结果多了 258。正确的结果应是多少?